

NOME _____

DATA _____

CLASSE _____

COME TI SENTI PRIMA DI INIZIARE?
METTI LA CROCETTA SULLA FACCINA.



TEST DI INGRESSO MATEMATICA

Classe 3

A.S. 2023/2024

1. SCRIVI IL NUMERO CHE VIENE PRIMA.

- ____ 50
- ____ 72
- ____ 99

2. SCRIVI IL NUMERO CHE VIENE DOPO.

- 99 ____
- 68 ____
- 73 ____

3. SCRIVI IL NUMERO PRECEDENTE E IL NUMERO SUCCESSIVO.

- ____ 79 ____
- ____ 51 ____
- ____ 143 ____

4. RISCRIVI I NUMERI IN ORDINE CRESCENTE.

79 14 40 66 93

—	—	—	—	—
---	---	---	---	---

5. RISCRIVI I NUMERI IN ORDINE DECRESCENTE.

82 37 11 53 70

—	—	—	—	—
---	---	---	---	---

6. COMPLETA I CONFRONTI CON I SEGNI $>$, $<$ OPPURE $=$.

67 57

40 51

88 88

98 89

53 74

34 34

7. COMPLETA COME NELL'ESEMPIO.

1 da e 7 u = 17

○ 3 da e 4 u = _____

○ 9 da e 0 u = _____

○ 6 da e 3 u = _____

○ 8 da e 5 u = _____

8. SCOMPONI I NUMERI, COME NELL'ESEMPIO.

89 = 8 da e 9 u

○ 43 = _____

○ 62 = _____

○ 77 = _____

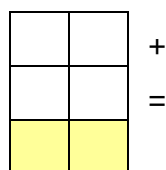
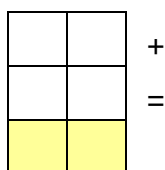
○ 19 = _____

9. ESEGUI LE SEGUENTI ADDIZIONI IN RIGA.

- $13 + 6 = \underline{\hspace{2cm}}$
- $47 + 2 = \underline{\hspace{2cm}}$
- $91 + 8 = \underline{\hspace{2cm}}$
- $49 + 70 = \underline{\hspace{2cm}}$

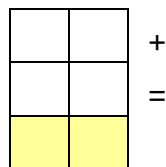
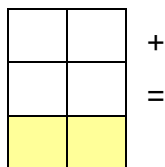
10. ESEGUI LE SEGUENTI ADDIZIONI IN COLONNA.

POI TRASCRIVI SOTTO IL RISULTATO.



○ $26 + 33 = \underline{\hspace{2cm}}$

○ $54 + 25 = \underline{\hspace{2cm}}$



○ $34 + 28 = \underline{\hspace{2cm}}$

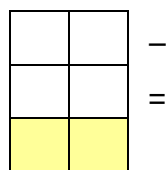
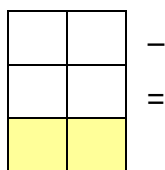
○ $49 + 31 = \underline{\hspace{2cm}}$

11. ESEGUI LE SEGUENTI SOTTRAZIONI IN RIGA.

- $58 - 6 = \underline{\hspace{2cm}}$
- $92 - 60 = \underline{\hspace{2cm}}$
- $80 - 40 = \underline{\hspace{2cm}}$
- $25 - 10 = \underline{\hspace{2cm}}$

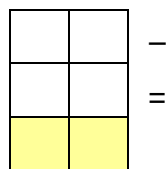
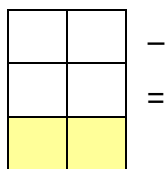
12. ESEGUI LE SEGUENTI SOTTRAZIONI IN COLONNA.

POI TRASCRIVI SOTTO IL RISULTATO.



○ $86 - 51 = \underline{\hspace{2cm}}$

○ $79 - 46 = \underline{\hspace{2cm}}$



○ $65 - 39 = \underline{\hspace{2cm}}$

○ $54 - 29 = \underline{\hspace{2cm}}$

13. ESEGUI LE SEGUENTI MOLTIPLICAZIONI IN RIGA.

$7 \times 7 = \underline{\quad}$

$9 \times 3 = \underline{\quad}$

$5 \times 3 = \underline{\quad}$

$2 \times 7 = \underline{\quad}$

$8 \times 2 = \underline{\quad}$

$4 \times 4 = \underline{\quad}$

14. ESEGUI LE SEGUENTI MOLTIPLICAZIONI IN COLONNA.

POI TRASCRIVI SOTTO IL RISULTATO.

		x

		x

○ $24 \times 2 = \underline{\quad}$

○ $33 \times 3 = \underline{\quad}$

○ $16 \times 4 = \underline{\quad}$

○ $17 \times 5 = \underline{\quad}$

		x

		x

15. PER RISOLVERE I PROBLEMI:

- Cerchia i dati
 - Sottolinea la domanda
 - Scrivi l'operazione in riga
 - Scrivi operazione in colonna e fai il calcolo
 - Scrivi la risposta
-

A - Nella fattoria ci sono 34 mucche, 16 conigli e 5 maiali.
Quanti animali ci sono in tutto?

OPERAZIONE: _____

RISPOSTA: _____

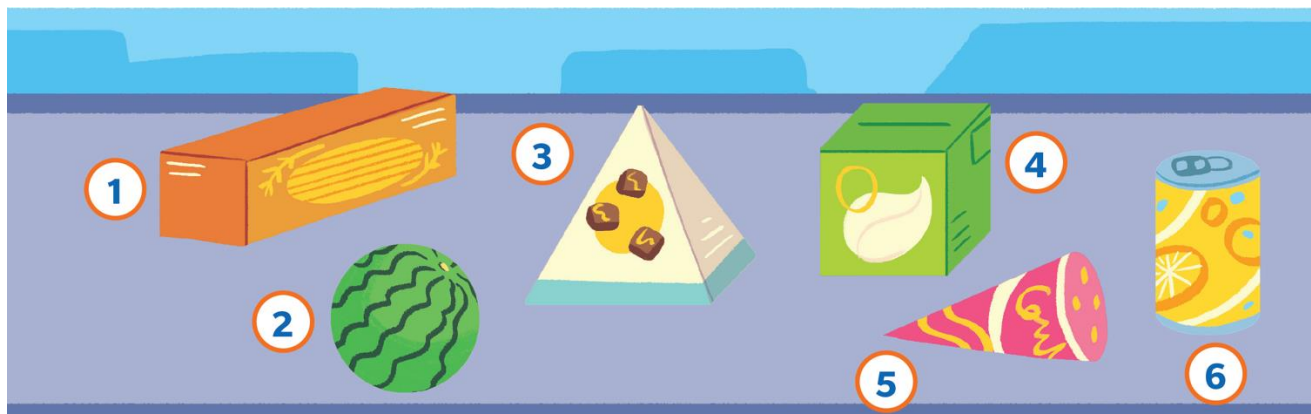
B - Nella libreria di classe c'erano 45 libri.
Gli studenti ne hanno presi 23.
Quanti libri sono rimasti nella libreria?

OPERAZIONE: _____

RISPOSTA: _____

16. OSSERVA IL DISEGNO E SCRIVI IL NUMERO CORRISPONDENTE

ALL'OGGETTO NEL DISEGNO CHE PIÙ SOMIGLIA AL SOLIDO GEOMETRICO.



cubo Numero _____



cilindro Numero _____



piramide Numero _____



parallelepipedo Numero _____



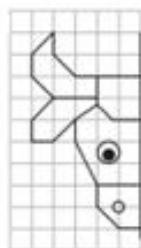
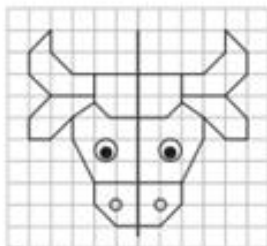
sfera Numero _____



cono Numero _____

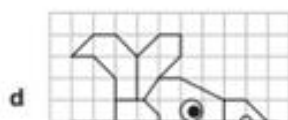
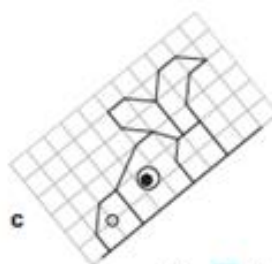
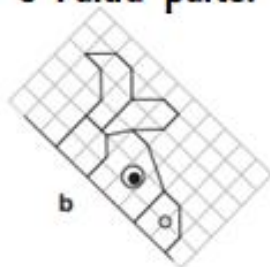
17. La simmetria.

La figura del toro è stata DIVISA in due parti.



Questa è una parte.

Quale è l'altra parte?



- A. a
- B. b
- C. c
- D. d

18.OSSERVA IL RETICOLO E INDICA LE COORDINATE DEGLI OGGETTI.

6								
5								
4								
3								
2								
1								
	A	B	C	D	E	F	G	H

- La moneta è in ____, ____,
- La caramella è in ____, ____,
- Il formaggio è in ____, ____,
- Il fiore è in ____, ____,
- Il sapone è in ____, ____,
- Il pomodoro è in ____, ____,
- La pera è in ____, ____,

19. QUESTA TABELLA RAPPRESENTA UN'INDAGINE SUGLI ANIMALI DOMESTICI PREFERITI DAGLI ALUNNI DELLA TERZA B. OSSERVA E RISPONDI ALLE DOMANDE.

CANE	X X X X X X X X X
CONIGLIO	X X X X X
GATTO	X X X X X
TARTARUGA	X X X
UCCELLINO	X X

Quanti bambini hanno partecipato all'indagine?

- 24
- 25
- 23

Qual è l'animale preferito?

- Il coniglio
- Il cane
- Il gatto

Qual è l'animale che piace meno?

- Il cane
- La tartaruga
- L'uccellino

Quali animali hanno avuto lo stesso numero di preferenze?

- Il cane e il gatto
- Il coniglio e il gatto
- La tartaruga e l'uccellino

LA PROVA È STATA FACILE O DIFFICILE? COLORA LA FACCINA.

COME TI SENTI ORA? METTI LA CROCETTA SULLA FACCINA.